


一、單一選擇題 (共 25 題)

- (B) 18 世紀，為了要平衡對華貿易的虧損。英國大量銷售下列何種產品至中國，此舉嚴重的危害中國人民的健康？
(A)大麻 (B)鴉片 (C)海洛因 (D)雪茄。
- (D) 某城市觀光資料提到：「本市原本是一個小縣城，是晚清首次對外開港的五大港之一，此後，外國人移居本地漸增，也開闢棋盤式的西式道路，西方物質文明快速輸入。」請問：此城市最有可能是下列何者？
(A)南京 (B)安平 (C)天津 (D)上海。
- (C) 歷史課時，同學們針對清代的政策來討論，附圖為其情況。請問：同學們討論的問題應該為何？



- (A)懷柔措施 (B)科舉制度 (C)文字獄 (D)薙髮留辮。B) 爾康與紫薇是一對青梅竹馬的戀人，他們抗拒了媒妁之言，自由戀愛，勇敢追求他們自己的幸福。而在當時，這樣的風氣已逐漸流行。請問：他們所處的時代最可能為何？
(A)明末清初 (B)清末 (C)唐代 (D)宋代。
- (C) 有一本記載清末歷史的書中，敘述一位皇帝不願作亡國之君，且同時希望藉由變法從慈禧太后手中奪回統治的權力，以鞏固自己的地位和權力，但他的計畫終告失敗。請問：上文所指應是下列哪一位皇帝？
(A)咸豐 (B)道光 (C)光緒 (D)宣統。
- (B) 小祥參加學校的日語社，老師說日文字母是模仿中國文字而成。請問：日文的創制與下列哪一背景有關？
(A)張騫出使西域 (B)日本展開大化革新 (C)漢武帝設立太學 (D)唐太宗擊滅東突厥。
- (D)) 中國邊疆民族中，哪一族武功最強盛，曾建立一個橫跨歐、亞兩洲的大帝國？
(A)女真人 (B)契丹人 (C)匈奴人 (D)蒙古人。
- (B) 中國於西元前 3 世紀時，人民面臨如附圖的轉變，此種轉變的關鍵史事為何？



- (A)商鞅變法 (B)秦始皇改制 (C)漢武帝改革 (D)西漢推崇儒學。
- (A) 附圖為北宋畫家所畫的糧食入倉圖，圖中的糧食源自是從占城(今越南)而來，成為北宋最重要的糧食作物。該糧食為何？



- (A)稻米 (B)小麥 (C)番薯 (D)玉米。
- (C) 秦始皇廢除周代的封建制度，改行郡縣制，郡縣的長官由朝廷任免，這項重要的改革有何影響？
(A)造成了以後外戚與宦官的爭權 (B)導致諸侯的割據 (C)使中國從此成為中央集權的國家 (D)直接引起民亂。
- (A) 清代某人主持的百日維新失敗後，由慈禧太后重掌朝政。請問：上文中的「某人」是指下列何人？
(A)康有為 (B)曾國藩 (C)李鴻章 (D)林則徐。
- (C) 魏晉南北朝時期，世族壟斷政權，形成特權階級，這是因為當時採取何種取士制度？
(A)孝廉推舉措施 (B)封建制度 (C)九品官人之法 (D)科舉制度。
- (D)) 林伯伯到中國北京觀光，暢遊北京附近的名勝古蹟，拍了不少照片留做紀念。其中有一張「圓明園西洋樓遺跡」的照片。請問：圓明園是在哪一場戰爭時被焚毀？
(A)鴉片戰爭 (B)甲午戰爭 (C)清法戰爭 (D)英法聯軍。

14. (B) (同學們在討論歷史上某一制度，根據下列同學們討論的內容判斷，這個制度應該為何？)

小遙：「明代與清初時，當時民間的海外貿易幾乎停頓，只剩下藩屬鄰邦對中國的進貢。」

真琴：「外國必須接受中國的冊封，才能藉進貢的名義與中國進行貿易。」

(A) 市舶司制度 (B) 朝貢貿易 (C) 坊市制度 (D) 海禁政策。小明和家人利用暑假期間，到中國旅行，順便

15. (B) 參觀歷史課本上所提及的古蹟，實踐「讀萬卷書，不如行萬里路」之

說。他們來到「天下第一關」山海關，領隊先生介紹明代有位將領曾經「衝冠一怒為紅顏」，開山海關引清兵入關。

請問：此將領為下列何者？

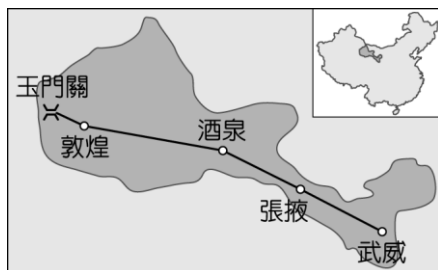
(A) 施琅 (B) 吳三桂 (C) 李自成 (D) 鄭和。

16. (B) 八國聯軍後，清帝國被迫簽訂合約，付出鉅額賠款。慈禧太后為挽回人心，開始進行一連串的改革。請問：此改革中影響教育最深遠是何者？

(A) 設立太學 (B) 廢除科舉制度 (C) 設京師大學堂 (D) 送學生出國留學。中國某電視臺舉辦旅遊路線設計比

17. (B) 賽，其中有一路線的行程安排如附圖所示。若要寫出呈現該路線特色的介紹詞句，

下列何者最合適？



(A) 走近黃河源頭，探訪生命禁區 (B) 重走絲綢之路，再現大漠風光 (C) 豪情塞上威風鼓，黃土高原信天游

(D) 甘甜瓜果齒留香，維族姑娘裙飛揚。【104 年會考】

18. (D) 中國在這個朝代對外族有種種優待，譬如設置市舶司，專門處理外商貿易之事。請問：這是哪一個朝代的情景？

(A) 秦代 (B) 漢代 (C) 隋代 (D) 唐代。


19. (C) (西元 19 世紀中期以前，外商來華只能在廣州進行貿易，且貿易時無法直接和官方交涉，必須透過下列哪個組織？)

(A) 酒館 (B) 鴉片館 (C) 公行 (D) 衙門。

20. (D) 阿樂是明代的船工，受雇於國際貿易船隊，他的船隊往來於南洋。請問：下列何者不是他的遭遇之一？

(A) 他的老闆和外國商人貿易都使用白銀貨幣 (B) 從中國出口的商品以瓷器、絲綢為主 (C) 他們輾轉從海外商人手中獲得玉米種子 (D) 當時的中國並未出現專業市鎮。

21. (B) 附圖為明朝官兵和某一外患在海上作戰的畫面。此外患是下列何者？



(A) 蒙古人 (B) 倭寇 (C) 流寇 (D) 女真人。

22. (B) 佛教傳入中國後，於哪一個朝代發展鼎盛，並轉為中國化的佛教，成為中國人思想與生活的重要內容？

(A) 漢 (B) 唐 (C) 元 (D) 清。美娜想要製作一本「19 世紀末 20 世紀初中國女權運動發展史」，向大家介紹當

23. (D) 時女性的生活風貌。請問：下列哪項

資料是她不能放入其中的？

(A) 晚清公立女學堂的設立 (B) 放足的宣導文宣 (C) 上海工廠的女工 (D) 女性選舉市長的廣告。

24. (A) 附圖為元世祖《出獵圖》的一部分，圖中身穿白衣者的男女為元世祖和他的皇后，身邊的侍衛膚色深淺不一，代表元代種族多元的情況。請問：元代為了有效率管理人民而實行的政策，下列敘述何者正確？



(A) 綠眼珠的中亞人掌管政府財政 (B) 在長江流域的漢人透過科舉成為政府高官 (C) 在黃河流域的契丹人被分派到重要的政府職位 (D) 蒙古人和其他人的地位並無分別。清代中期以後，隨著西方人挾「船堅炮利」之優勢來

25. (D) 華，中外關係自此改變。請問：清廷與西方因禁教而減少交流、

閉關自守後，被迫開放通商口岸的清帝是下列何人？

(A) 咸豐 (B) 嘉慶 (C) 乾隆 (D) 道光。